

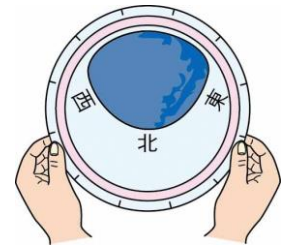


No. 9 月と星の動き (1)	名前	組 番 /10問
------------------	----	----------

1 星の調べ方について、次の () に当てはまる言葉を書きましょう。

1 右の図は、星をさがすときに使う道具で、
(1) () といいます。

2 右の図のように持っているときは、
(2) () の空を見るときを持ち方です。

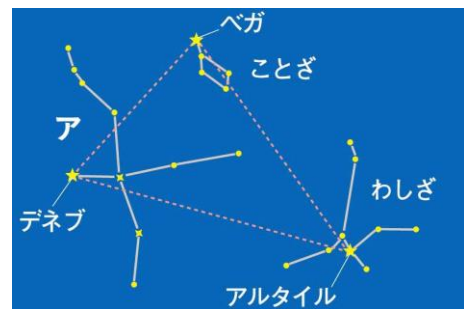


2 夏の空の星について、次の () に当てはまる言葉を書きましょう。

1 星と星を結んで、いくつかのまとまりに分けたものを
(3) () といいます。

2 右の図の**ア**の星のまとまりを、
(4) () といいます。

3 右の図のように、デネブ、ベガ、アルタイルを結んだ
三角形を (5) () といいます。

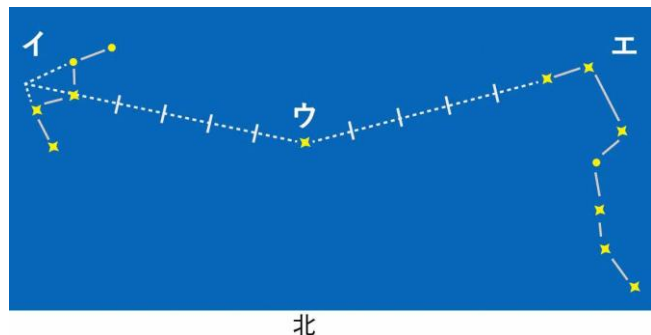


3 北の空の星について、次の () に当てはまる言葉を書きましょう。

1 右の図の**イ**の星のまとまりを、
(6) () といいます。

2 右の図で、ほぼ真北の方角にある**ウ**の
星を、(7) () と
いいます。

3 右の図の**エ**の星のまとまりを、
(8) () といいます。



4 星の明るさや色について、次の [] のうちで正しいものを○で囲みましょう。^{かこ}

1 星の明るさは、[⑨ どれも同じ ・ それぞれちがう]。

2 星の色は、[⑩ どれも同じ ・ それぞれちがう]。

デネブ、ベガ、アルタイルは、どれもとても明るい星だよ。



キリトリ

〈答え〉 1 ① 星ざ早見 ② 北 2 ③ 星ざ ④ はくちょうざ ⑤ 夏の三角形

3 ⑥ カシオペヤぎ ⑦ 北極星 ⑧ 北と七星

4 ⑨ それぞれちがう ⑩ それぞれちがう