




No. 20 3年生のまとめ	名前	組 番	/10問
----------------	----	-----	------

これまでに学んだことについて、次の()に当てはまる言葉を書きましょう。

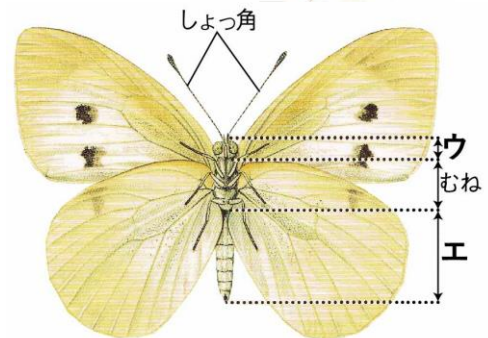
1 右の図は、ホウセンカのからだのつくりである。

- ・右の図の^アの部分、(①)という。
- ・右の図の^イの部分、(②)という。



2 右の図は、モンシロチョウのからだのつくりである。

- ・右の図の^ウの部分、(③)という。
- ・右の図の^エの部分、(④)という。



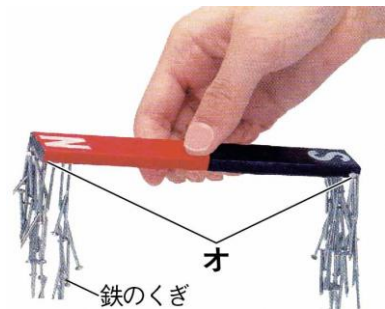
3 かげは、太陽の(⑤)がわにできる。

4 かがみではね返した日光は、(⑥)に進む。

5 ゴムを長くのばすほど、ゴムが元にもどろうとする力は(⑦)なる。

6 鉄やアルミニウムなどの(⑧)は、電気を通す。

7 右の写真の^オの部分のような、じしゃくのはしの方にある、鉄をよく引きつける部分を(⑨)という。



8 ねん土のように、ものの形をかえても、重さは(⑩)。

3年の理科はどうだったかな？

もうすぐはじまる4年の理科でも、科学のめを育てていこう！



.....キリトリ.....

- 〈答え〉 ① ^は葉 ② ^ね根 ③ 頭 ④ はら ⑤ ^{はんたい}反対 ⑥ まっすぐ ⑦ 強く
⑧ 金ぞく ⑨ きよく ⑩ かわらない